



PROFESSOR

**Eulália Santos**

DISCIPLINA

**MATEMÁTICA**

TURMA

**101**

ALUNO

**GABARITO****COLÉGIO MARQUES RODRIGUES**Estrada da Água Branca, 2551 - Realengo - RJ  
Tel: (21) 3462-7520 - www.colegiomr.com.br**Questão 1:**

Resposta das contas

36; 44; 58; 30; 09;

28; 67; 59; 38; 26;

20; 29; 08; 29; 05

**Questão 2:**

Mônica carregou 19 livros no total.

**Questão 3:**

Maurício irá ler 6 livros em duas noites.

**Questão 4:**

+ 3		- 2		+ 4	
2	5	6	4	1	5
4	7	5	3	0	4
5	8	3	1	5	9
3	6	4	2	1	5

**Questão 5:** 5     3     7     8**Questão 6:**

Par

**Questão 7:**

O aluno deve desenhar dois conjuntos contendo no primeiro 6 elementos e no segundo 12 elementos.

**Questão 8:**

Deve ser pintadas:

Memina = 3 quadrados

Meminos = 2 quadrados


Bandeiras = 8 quadrados

Estrelas = 6 quadrados

Balões = 2 quadrados

Fogueiras = 1 quadrado

**Questão 9:**



**Questão 10:**

b) 4<sup>a</sup>

c) 5<sup>a</sup>

d) 1<sup>a</sup>

e) 10<sup>a</sup>

f) 7<sup>a</sup>

**Questão 12:**

a) Domingo

b) 6<sup>ª</sup> mês do ano

c) a aluna deve envolver número ordinal que lembra a sua idade.

**Questão 13:**

O aluno deve pintar 12 balões.

**Questão 14:**

O aluno deve envolver 6 frascos de perfume

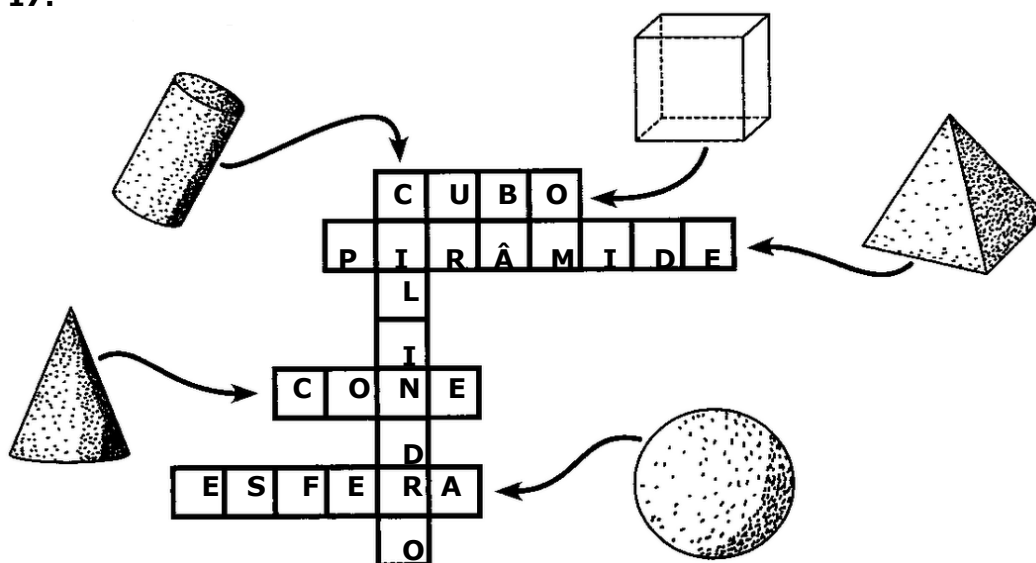
**Questão 15:**

Desenhar 18 flores.

**Questão 16:**

Desenhar a sequência começando da primeira forma geométrica para a última.

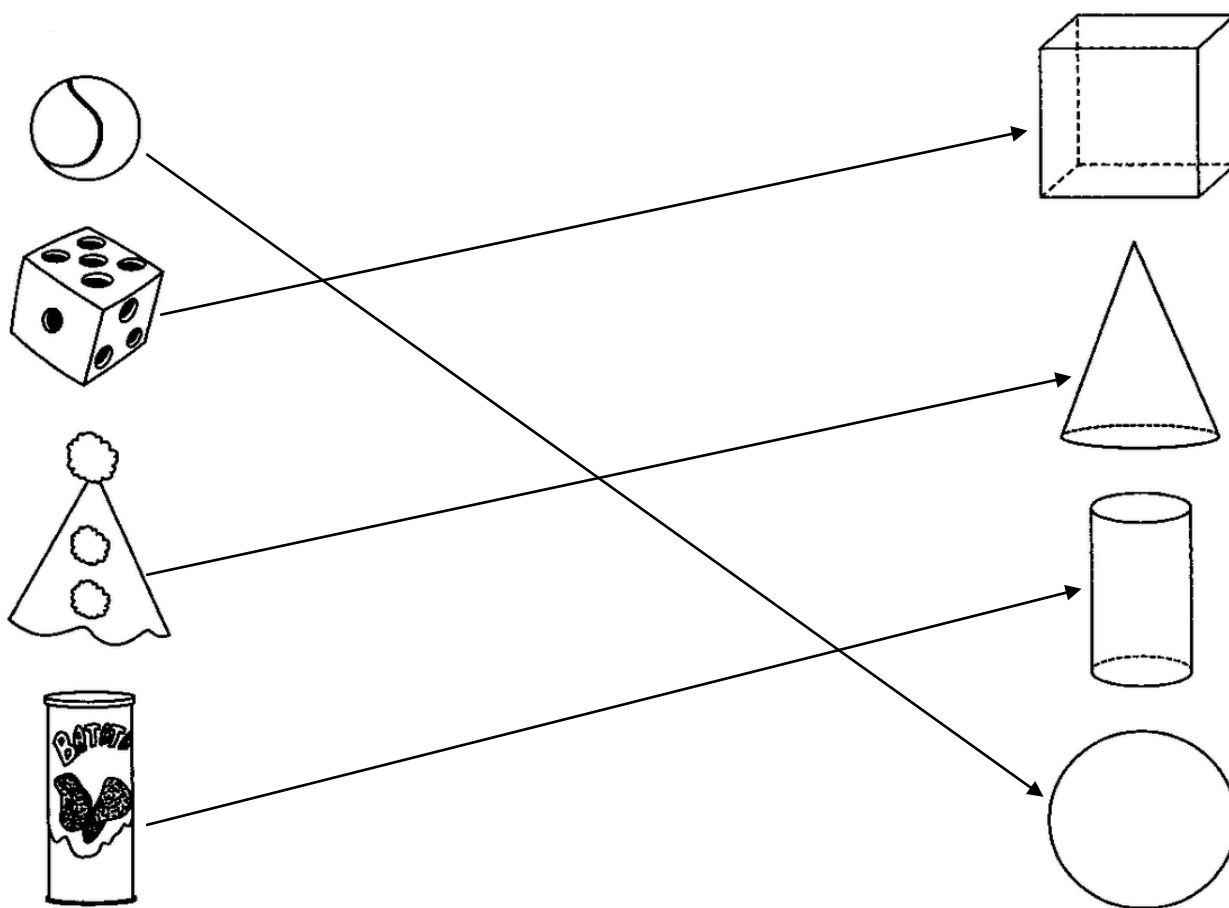
**Questão 17:**



**Questão 18:**

O aluno deve criar um desenho usando as formas geométricas, de sua preferência.

**Questão 19:**



**Questão 20:**

O aluno deve pintar a figura destacando as formas geométricas iguais com a mesma cor.